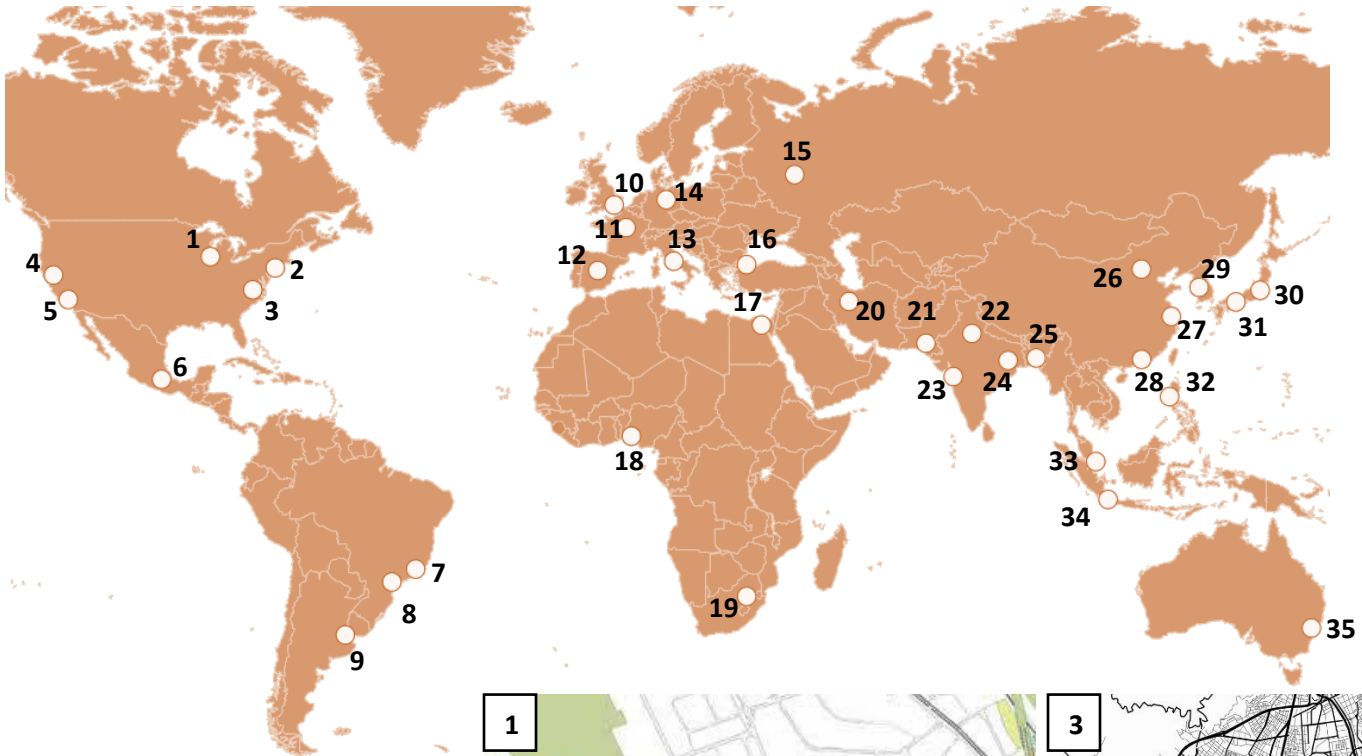


## Fișă de lucru

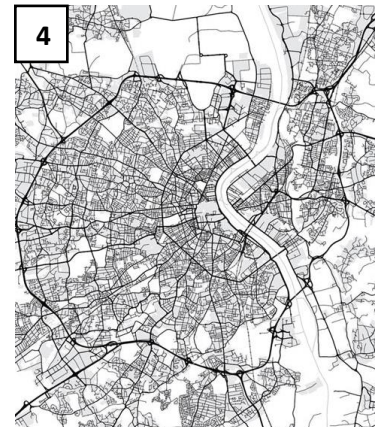
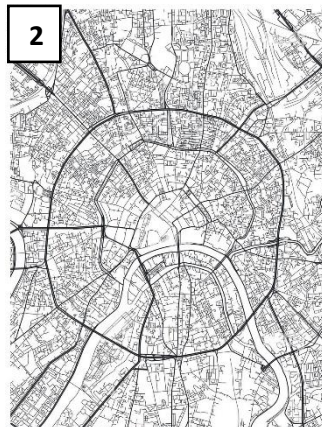
### -Așezări urbane (clasa a X-a)

**Subiectul I.** Analizați harta alăturată și precizați numele orașelor marcate cu numere de la 1 la 35.



**Subiectul II.** Analizați reprezentările cartografice alăturate și precizați:

- 1) tipul de plan urban pentru fiecare dintre hărțile marcate cu numere de la 1 la 5;
- 2) un avantaj și un dezavantaj pentru planul urban din harta nr. 2;
- 3) un dezavantaj pentru planul din harta nr. 1;
- 4) câte un exemplu de oraș specific fiecărui plan urban.



**Subiectul III.** Numiți câte două orașe specializate într-o anumită ramură economică:

- 1) orașe financiar-bancare;
- 2) orașe miniere;
- 3) orașe politico-administrative;
- 4) orașe portuare;
- 5) orașe turistice;